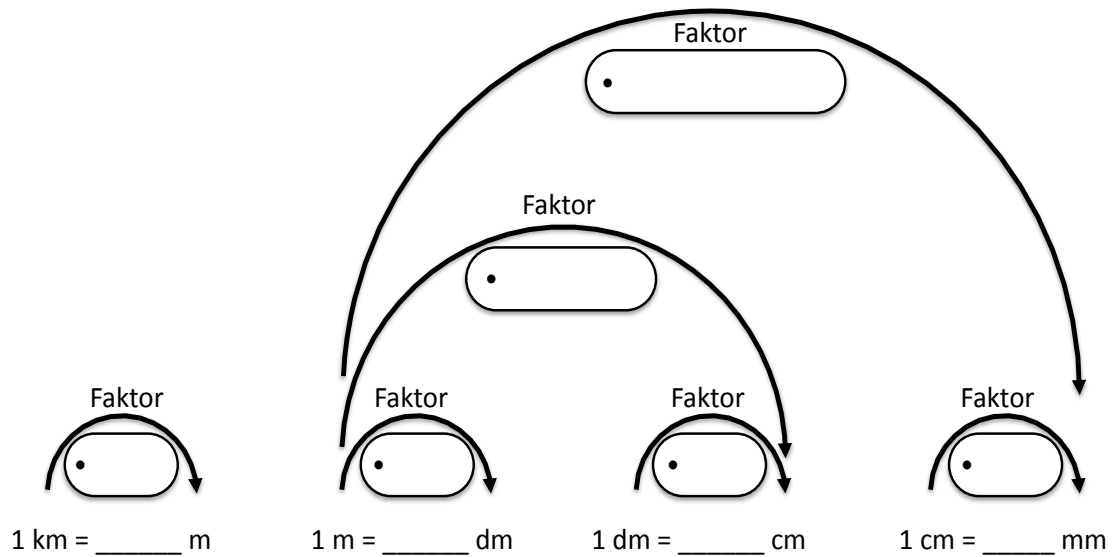


A 2 Rechnen mit Längen

1. Aufgabe: Ergänze die leeren Felder.



2. Aufgabe: Umrechnungen

Rechne um in Zentimeter!

- a) 25 dm = _____ cm
- b) 9000 mm = _____ cm
- c) 29 m = _____ cm
- d) 21 km = _____ cm

Rechne um in Meter!

- a) 15000 mm = _____ m
- b) 400 dm = _____ m
- c) 450000 cm = _____ m
- d) 12,5 km = _____ m

Rechne um in Dezimeter!

- a) 18 m = _____ dm
- b) 12000 mm = _____ dm
- c) 4,5 km = _____ dm
- d) 3500 cm = _____ dm

Rechne um in Millimeter!

- a) 15 cm = _____ mm
- b) 850 dm = _____ mm
- c) 591 m = _____ mm
- d) 3,5 km = _____ mm

B 2 Textaufgabe

1. Aufgabe


Du möchtest dein altes Smartphone verkaufen. Es hatte einen Neupreis von 800 €. Bei einem Internet Auktionshaus bietest du das Handy an und lädst zur besseren Präsentation noch 2 Bilder hoch.

Folgende Gebühren gelten bei dem Internet Auktionshaus:

Anlegen einer Anzeige: 2,00 €
Hochladen von Bildern: 0,50 € je Bild

Nach Verkauf wird noch eine Verkaufsgebühr von einem Zehntel des Verkaufspreises fällig.

Das Handy kann nach einer Auktion von 7 Tagen für 190 € verkauft werden.



Fragen

- a) Wie viel Geld bekommst du tatsächlich nach Abzug aller Gebühren nach dem Verkauf?
- b) Wie hoch ist der Verlust gegenüber dem Neupreis?

Deine Rechnung:


B5 Kreuzworträtsel – Größen

Aufgabe:

Löse das Kreuzworträtsel!

Schreibe die Umlaute mit zwei Buchstaben: ae = ä, oe = ö, ue = ü,

Schreibe das scharfe s mit zwei s: ss = ß



Waagerecht

3. alte Längeneinheit

5. 1000 mm

8. 1 Stunde

9. 100 cm

10. 1000 kg

11. 1440 min

12. 1000 g

15. 3600 s

19. 1000 m

Senkrecht

1. 10000 m

2. 10 mm

4. 3600 s

6. 24 h

7. 1 000 000 mg

8. 10 Minuten

10. 86400 s

11. 1 000 000 g

13. 1 Tausendstel

14. Name für 1000

16. 10 cm

17. Währung in Europa

18. 1000 mg

C2 Schätzen

Aufgabe Wie groß ist der Grizzly Bär, wenn er sich senkrecht aufstellt?

Nimm an, die Kugel, auf der er sich abstützt hat einen Durchmesser von 50 cm.
Begründe deine Schätzung!



Bildquelle: https://commons.wikimedia.org/wiki/File%3AGrizzly_Bear%2C_Lounging.jpg

Raum für Rechnungen/Skizzen/Überlegungen

Deine Antwort: