

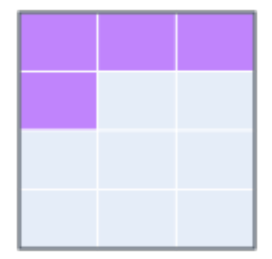
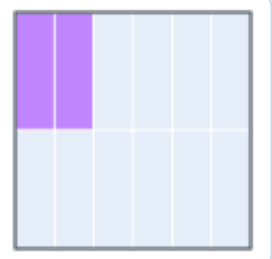
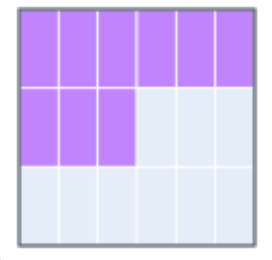
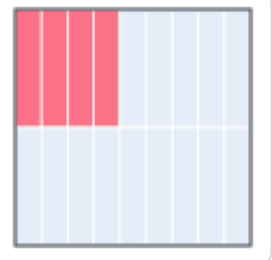

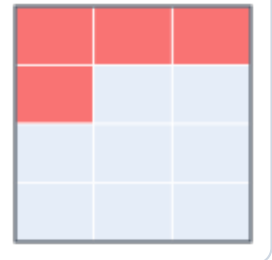

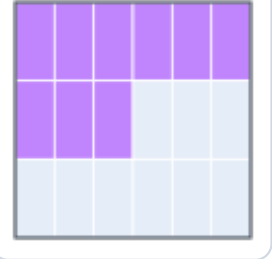


# Arbeitsblatt – Bruchteile erkennen

Trage jeweils den Bruch ein. Kürze wenn möglich! Die Reihenfolge der Teile spielt keine Rolle, nur der Anteil.

	1. Bruchteil der Fläche  Bruch: <input type="text"/>
	2. Bruchteil der Fläche  Bruch: <input type="text"/>
	3. Bruchteil der Fläche  Bruch: <input type="text"/>
	4. Bruchteil der Fläche  Bruch: <input type="text"/>
	5. Bruchteil der Fläche  Bruch: <input type="text"/>
	6. Bruchteil der Fläche  Bruch: <input type="text"/>
	7. Bruchteil der Fläche  Bruch: <input type="text"/>
	8. Bruchteil der Fläche  Bruch: <input type="text"/>
	9. Bruchteil der Fläche  Bruch: <input type="text"/>
	10. Bruchteil der Fläche  Bruch: <input type="text"/>