

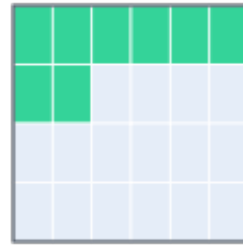
# Arbeitsblatt – Bruchteile erkennen

Trage jeweils den Bruch ein. Kürze wenn möglich! Die Reihenfolge der Teile spielt keine Rolle, nur der Anteil.




1. Bruchteil der Fläche

Bruch:



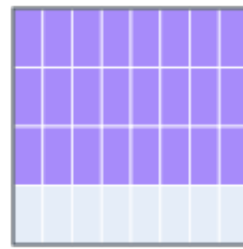
2. Bruchteil der Fläche

Bruch:



3. Bruchteil der Fläche

Bruch:



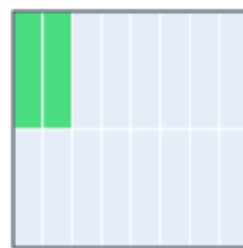
4. Bruchteil der Fläche

Bruch:



5. Bruchteil der Fläche

Bruch:




6. Bruchteil der Fläche

Bruch:




7. Bruchteil der Fläche

Bruch:



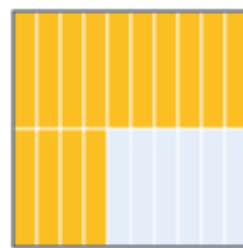
8. Bruchteil der Fläche

Bruch:



9. Bruchteil der Fläche

Bruch:



10. Bruchteil der Fläche

Bruch: